



# ST. ANNE'S COLLEGE STUDY MATERIALS

During the Stay at Home Period due to COVID-19

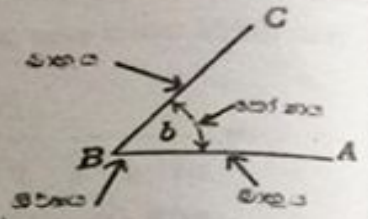
Teacher In-charge: Sujeewa Herath  
Grade 6 – Math Exercises

[sac-kuru.com](http://sac-kuru.com)

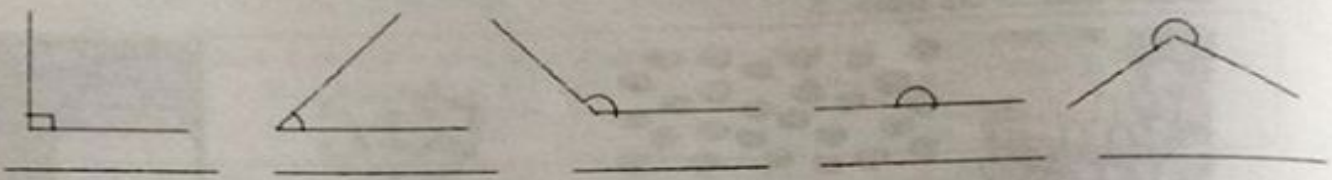
# 6 ශ්‍රේණිය - ගණිතය

## කෝණ

සරල වේඩා ඔණව දැනත් හමු වීමත් කෝණයක් සෑදේ. සරල වේඩා දැන හමුවන ලක්ෂ්‍යය ශීර්ෂයයි.



- පුදුපු කෝණ වර්ගය තෝරා පහත හිස්තැන් ඒවායේ හිස්තැන පුරවන්න.  
( සාදුකෝණ , පුළුකෝණ , මහා කෝණ , සරල කෝණ , පරාවර්ත කෝණ )



• මම හිටියේ සාදුකෝණ හමුවන ස්ථාන පහත හිස්තැන්වල ලියන්න.

.....  
 .....

• මම හිටියේ පුළුකෝණ හමුවන ස්ථාන පහත හිස්තැන්වල ලියන්න.

.....  
 .....

• මම හිටියේ මහා කෝණ හමුවන ස්ථාන පහත හිස්තැන්වල ලියන්න.

.....  
 .....

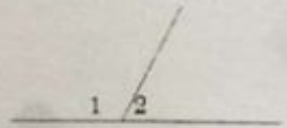
• පහත එක් එක් රූපයේ කෝණ වර්ගය ලියන්න.

1 	2 	3 	4 
5 	6 	7 	8 
9 	10 	11 	12 
13 	14 	15 	16 

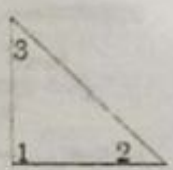
- සහන දැක්වෙන එක් එක් වර්ගවලට පහත සඳහන් වන මිනිත්තු කවුළු අතර සලකුණු කර ඇති කෝණය කුමන කෝණ වර්ගයට අයත් දැයි ලියන්න.



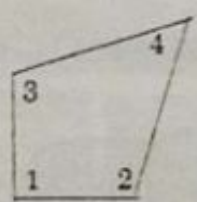
- සහන දැක්වෙන එක් එක් රූපයේ අංක මගින් දක්වා ඇති කෝණ කුමන වර්ගයට අයත් දැයි අංකය සමඟ එක් කරමින් ලියන්න.



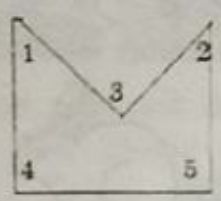
.....  
 .....



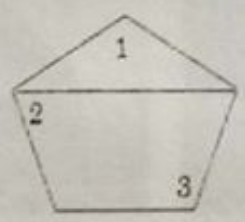
.....  
 .....



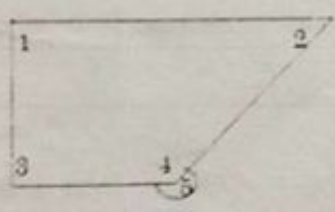
.....  
 .....



.....  
 .....



.....  
 .....

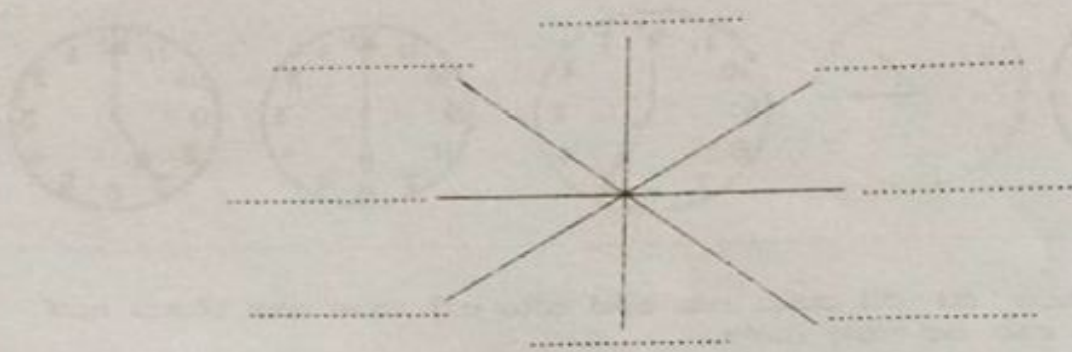


.....  
 .....



# 6 ශ්‍රේණිය - ගණිතය

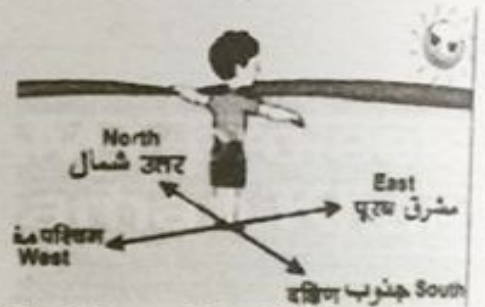
## දිශා




මෙම රූපයේ අට දිශාව සිත් ඉරි මත ලියන්න.

- වරහන් තුළ ඇති වචන යොදා හිස්තැන් පුරවන්න.

තැනෙහි දිශාව නම් කර ඇත්තේ .....  
 ..... කෙසේද. රූපයේ දැක්වෙන පරිදි දැන් දිශාවට  
 ඉරතැනෙහි දිශාවට ..... සිට ගන්න. එවිට මෙහි  
 දකුණු අත දිග නැගෙන දිශාව ..... වම් අත  
 දිග නැගෙන දිශාව ..... පිටුපස සිටින දිශාව  
 .....



( හිරු නැගෙන දිශාව . මුහුණත . දකුණු දිශාවයි . උතුරු දිශාවයි . මස්තහිරි දිශාවයි . )



මෙහි දැක්වෙන රූපවලට අනුව

- මෙයට උතුරු දිශාවටත් සිටින්නේ .....යි.
- සත්හරු සිටින්නේ මෙයට .....යි.
- මෙයට දකුණු දිශාවටත් සිටින්නේ .....යි.
- හාවාට මස්තහිරි දිශාවටත් ..... හා ..... සිටියි.
- හිරිටත් දකුණු දිශාවටත් සිටින්නේ ..... හා .....යි.